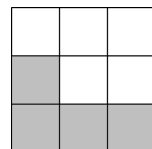

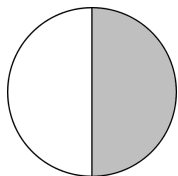


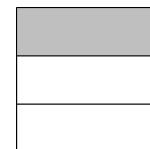
Jeden zlomek za druhým

Kde na číselné ose najdeš následující zlomky?


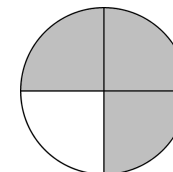
$$\frac{7}{18}$$



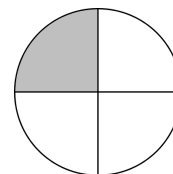
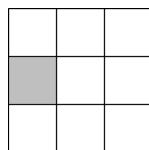
$$\frac{6}{6}$$



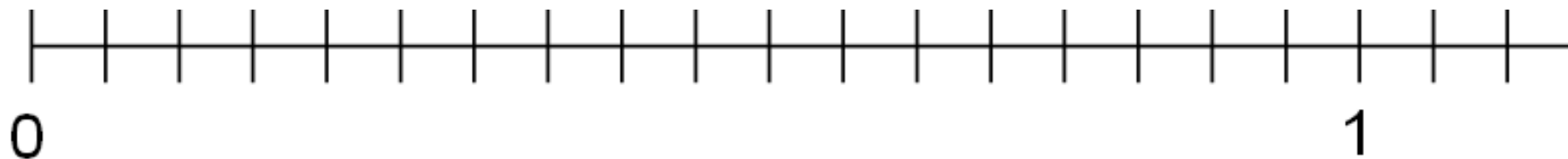

$$\frac{20}{18}$$



$$\frac{9}{18}$$



$$\frac{2}{6}$$

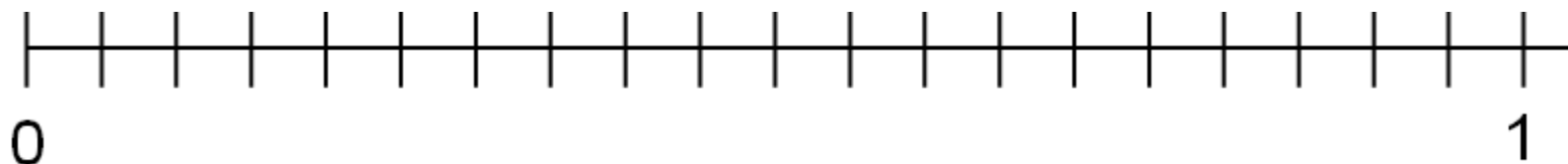
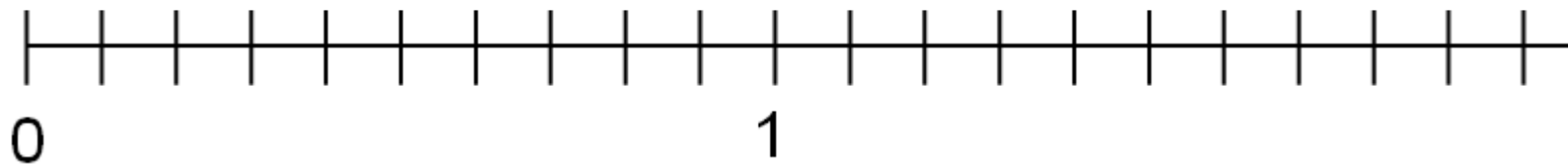
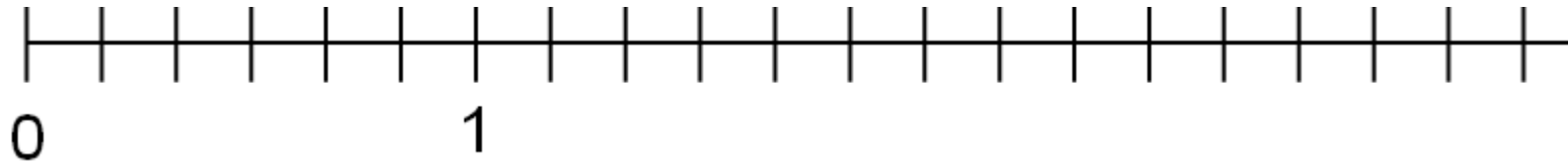


Autorem materiálu a všech jeho částí, není-li uvedeno jinak, je Hana Pilařová

Materiál byl vytvořen v rámci projektu Základní školy Stráž, okres Tachov, příspěvkové organizace, registrovaným pod názvem „Škola na míru našim dětem“ a číslem CZ.1.07/1.4.00/21.2210

Jeden zlomek za druhým

Doplňuj zlomky podle diktátu:



Autorem materiálu a všech jeho částí, není-li uvedeno jinak, je Hana Pilařová

Materiál byl vytvořen v rámci projektu Základní školy Stráž, okres Tachov, příspěvkové organizace, registrovaným pod názvem „Škola na míru našim dětem“ a číslem CZ.1.07/1.4.00/21.2210